

Madarak és Fák Napja 2003


Tiszapüspöki és a Halásztanya tanösvény

1. Feladat: Rajzold be a mellékelt Falu térképen a falu orsó alakú főterére a közintézményeket (1. Bisztró, 2. gyógyszertár, 3. önkormányzat, 4. óvoda, 5. iskola, 6. posta, 7. buszvégállomás, 8. Fő Út) és a számokkal jelöld!

2. Feladat: Keresd meg a főtéren a gólyafészket, jelöld be a Falu térképen (G betűvel)! Figyeld meg milyen természetbarát módon helyezte el az energia takarékos lámpa tartóját az elektromos művek!

Mennyi ilyen gólyafészkek barát villanykarót találsz a Fő úton, számold meg!.....

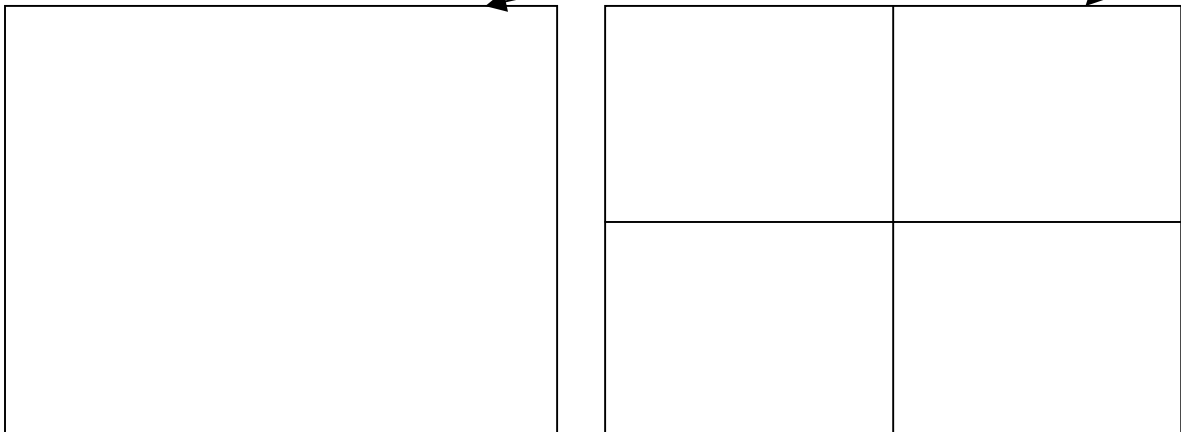
3. Feladat: Számold meg a vadgesztenyefákat a főtéren, rajzold be őket a Falu térképre (O jel-
lej)! Ezeket a csodálatosan Szép fákat hívják bokrétafának is gyönyörű virágzatuk miatt.
Hány úja van a gesztenye levelének?..... Válasz ki egy levelet és rajzold ide:



4. Feladat: A főtér közepén található neobarokk stílusban épült templomunk. Kovácsoltvas keresztjének motívumai több parasztház vaskeresztjében megtalálható. Rajzold ide a templom egyik kovácsoltvas keresztjét! A templom ajtaja mellett balra találsz egy feketesínű jelet ami a Tisza szabályozásakor került ide, mi van rá írva, írd ide:.....

5. Feladat: A templom mögött nyílik egy kis utca a Décse-aljára, menj oda mert ott nagyon jól megfigyelhető, hogy milyen magas löszhátra települt a falu az árvizek elől! Hány méter különbség lehet a Décse-alja és a templom környéki talajszint között? Becsüld meg!.....

6. Feladat: Tiszapüspöki híres öreg parasztházainak díszes deszkaoromzatairól, kovácsoltvas keresztjeiről, rajzol ide egy kiválasztott ház deszkaoromzatát és néhány megfigyelt vaskeresztet!



7. Feladat: A mellékelt halásztanya térképen rajzold be folyamatosan a megtett utatokat a falutól a halásztanyai buszfordulóig és vissza az oktatóközpontig!

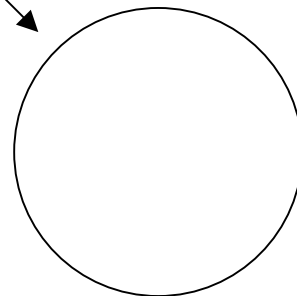

8. Feladat: A faluból kiérve nemsokára találsz egy kilométerkövet. Milyen szám áll rajta?..... Ez a szám nem helyes, minek kellene lennie?..... Tudod-e mit jelölnek a kilométerköveken található számok? Írd ide!:

9. Feladat: Csodálatosan szép fasoron fogsz végighaladni, hallgasd a madarak énekét! A gát előtt található a tárház, amit Szép jegenyenyár sor vesz körül, rajzolj ide egy jegenyenyárfát, figyelj meg hogyan tarják az ágaikat!

| jegenyenyár | fehérnyár | feketenyár |
|-------------|-----------|------------|
| | | |

10. Feladat: A gát tejétől kezdődik a Közép-Tiszai Tájvédelmi Körzet. Határát egy tábla jelzi. Mi van ráírva? Írd ide!:

A táblán megtalálható a magyar természetvédelem jelképe: világoskék körben egy repülő nagykócsag. A nagykócsag egy gólyaszerű gázlomadár, hívják nemes vagy fehérkócsagnak is, sajnos nagyon ritka. A kócsag gémféle, ezért a gólyákkal ellentétben nem kinyújtott nyakkal repül, hanem S alakban behajlított nyakkal. Próbáld ide rajzolni a magyar természetvédelem jelképét:



12. Feladat: A halásztanya a Tisza szabályozása után jött létre, mert ekkor az élő Tisza olyan messzire került a falutól, hogy a halászoknak nem volt praktikus mindig kijárni idáig, inkább építettek erre a magas övzatonyra halászkunyhókat. hogy a munkák idején itt aludhassanak, ebből később üdülőfalv lett. A gátak miatt úgy megemelkedett az árvíz szint, hogy a halásztanyán is csak lábas házakat lehet építeni. Rajzolj le egy házat és jelöld be a legmagasabb víz szintet! (A házak falán még mindig látszik a 2000-es nagy ár szintje.)

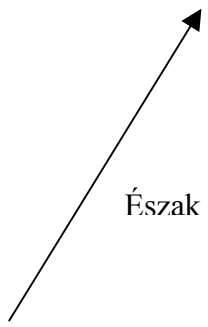
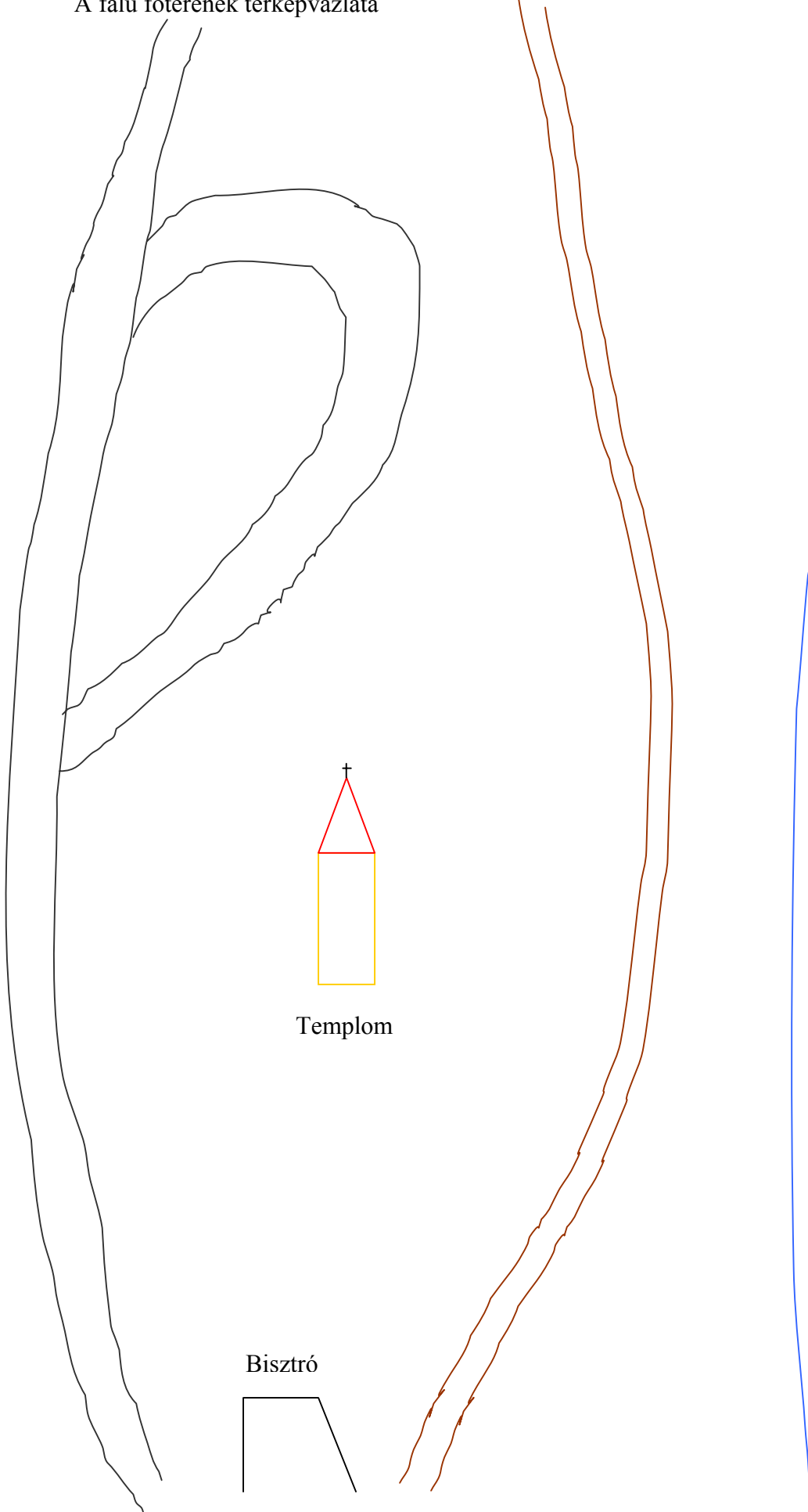
11. Feladat: A műút elért a Tiszáig és elkanyarodik. Itt található a vízparkoló tábla, balján egy hatalmas fehérnyárfá, jobbán egy Öreg feketenyárfával, ezek ágszerkezetét is rajzolj le a fenti helyekre!

12. Feladat: Találsz két házat is amire hal van felfestve, milyen halak 1:....., 2:..... Jelöld ezeket a házakat a számokkal a Halásztanya térképen!

13. Feladat: Találsz egy olyan nyaralót, ahol rendkívül természetbarát módon nem vágják ki a fát, ha nem inkább körbeépítették, jelöld be ezt a házat is a Halásztanya térképen! (K betűvel)

13+1 Feladat: A buszfordulónál a Tisza felé nézve látsz a túloldalon egy folyamkilométer táblát, mi áll rajta és mit jelent ez? Írd ide!:

A falu főterének térképvázlata

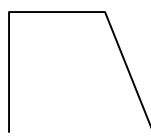


Észak

Décse-ér

Templom

Bisztró



A Halásztanya térképvázlata

